



Quels sont les 4 nombres consécutifs dont la somme donne 90 ?

$$\square + \square + \square + \square = 90$$

Les nombres consécutifs sont des nombres qui se suivent.





Observe et complète :

$$\begin{aligned} \text{🔒} + \text{🔒} + \text{🔒} &= 30 \\ \text{🔒} + \text{🏠} + \text{🏠} &= 20 \\ \text{🔑} \times \text{🏠} &= 30 \\ \text{🔒} + \text{🔑} &= ? \end{aligned}$$

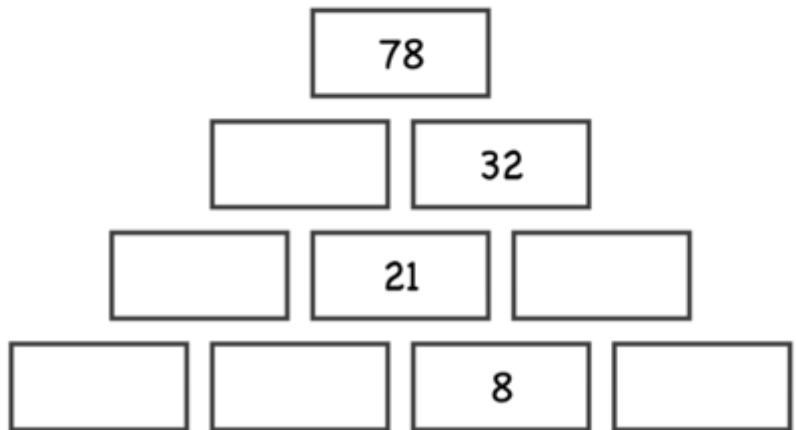
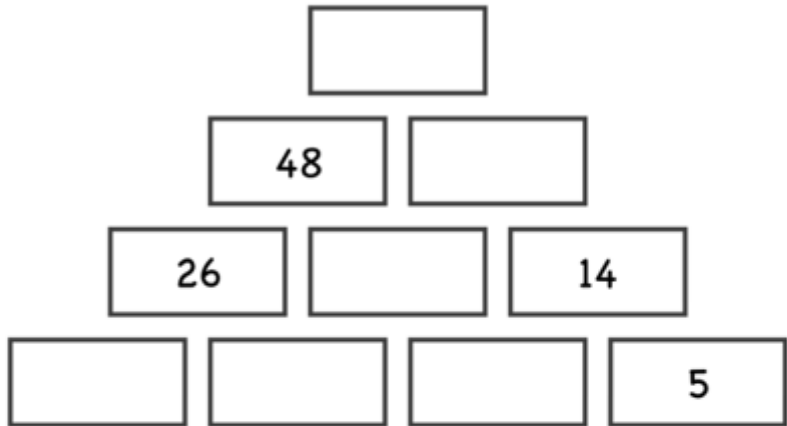
Écris ta réponse

🔒 .  
🔑 .  
🏠 .





Complète ces pyramides additives.



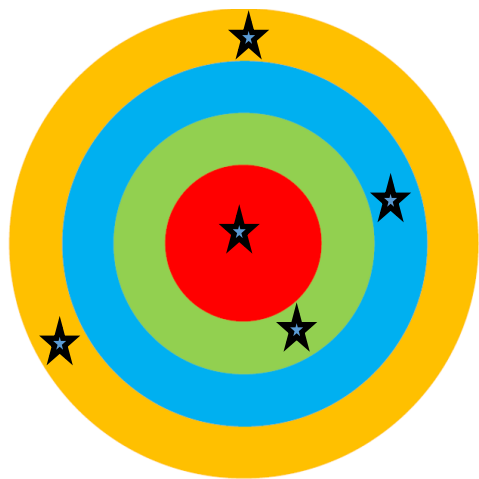
Calcule le score de chaque cible.

Jaune : 100

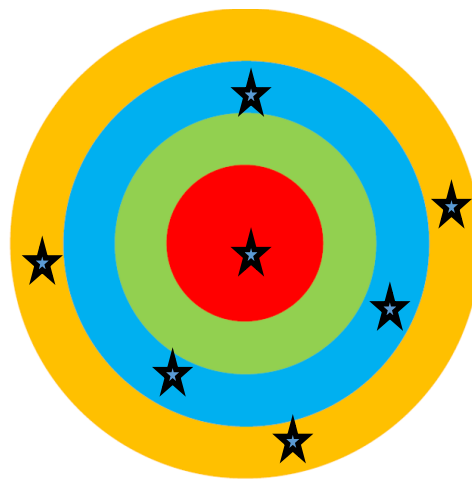
Bleu: 50

Vert: 25


Rouge: 5



Cible 1 : .....



Cible 2 : .....



Cible 3 : .....

Attention chaque cible n'a pas le même nombre d'impacts ! Vous pouvez utiliser l'addition mais aussi la multiplication.