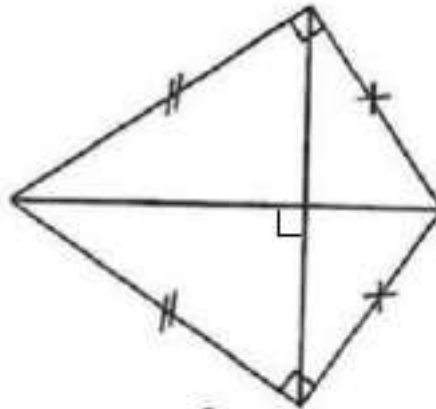




Le triangle muet

La figure ci-dessous a perdu le nom de ses sommets.
Aidez le professeur Géo à les replacer au bon endroit.

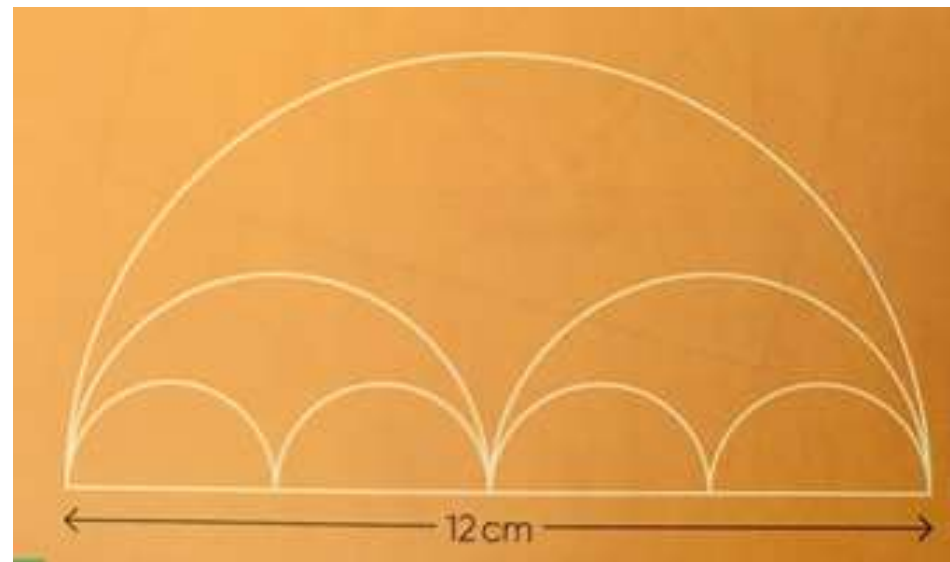
1. Le triangle ABC est un triangle rectangle.
2. Le triangle AOC est un triangle isocèle.
3. Le point le plus proche de O est A .
4. Le point I se trouve à l'intersection des diagonales du quadrilatère.





Reproduction de figures

Construis la figure à taille réelle. Tous les arcs de cercle représentés sont des demi-cercles.



Source : Manuel de l'élève, Maths au CM1, Accès, mai 2021, page 180.





Énigm'Oise

CM1




semaine 2

jour 3

les triangles

Observe bien cette figure.



1. Reproduisez cette figure.
2. Combien voyez-vous de triangles ?
3. Maintenant vous devez enlever 5 allumettes (sans les casser) afin qu'il ne reste que 5 triangles de même dimension.

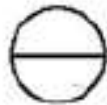


Fan du Groenland

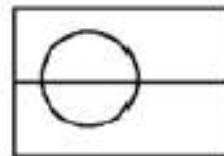
Monsieur Jean Paimaroute rentre d'un superbe voyage au Groenland et souhaite dessiner un drapeau sur le mur de son garage. Il possède les schémas de la construction du drapeau numéroté dans l'ordre.



1



2



3



4

Aide-le à dessiner son drapeau en lui écrivant le programme de construction.

