



Les allumettes

Avec des allumettes, nous avons fabriqué un rectangle.



En utilisant le même nombre d'allumettes, construis **un carré** et **un triangle** avec 3 côtés de même longueur.





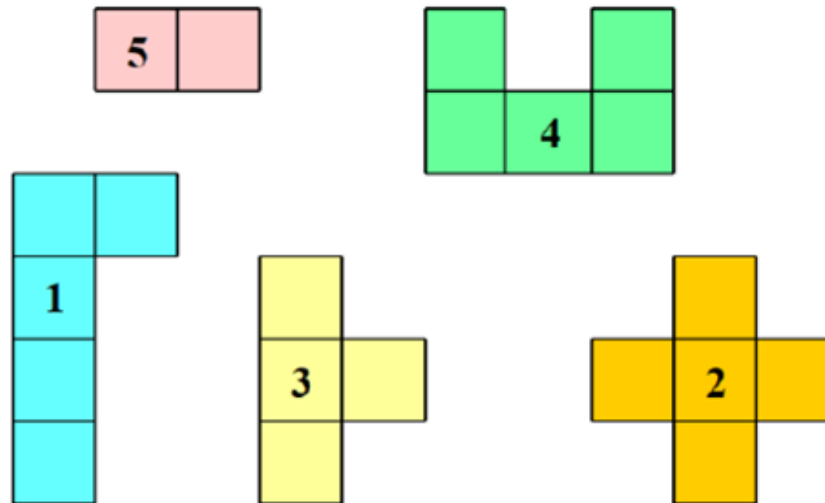
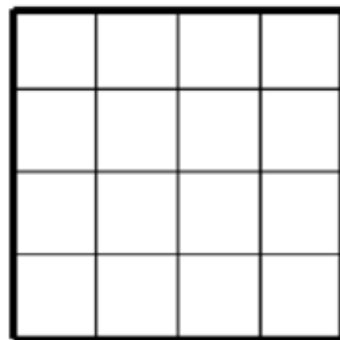
Énigm'Oise



semaine 2
jour 2

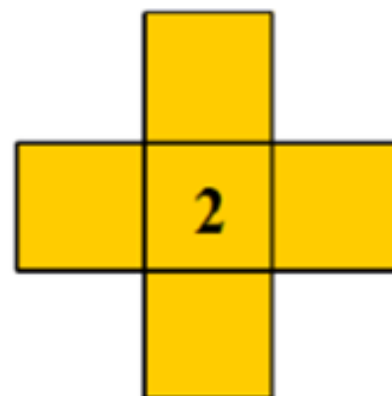
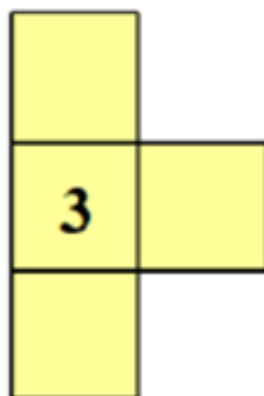
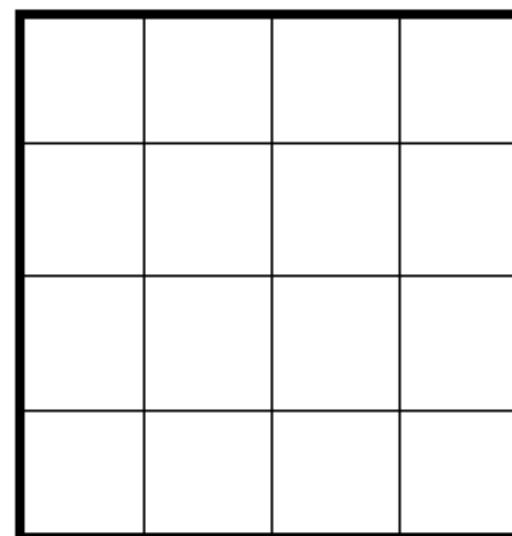

Le puzzle

Voici un carré et des pièces de puzzle numérotées de 1 à 5.
On peut remplir le carré avec 4 de ces formes.
Trouvez la forme qui est en trop.



La forme en trop est la forme : ----- .

Pièces à découper :

















Le clapier

Mon lapin est dans une des cases du clapier.

- Il n'a pas de voisin à droite.
- Il a un lapin noir à gauche.
- Il n'a pas de voisin en dessous.

A 	B 	C	D 
E	F 	G 	H 
I 	J 	K 	L
M 	N 	O	P 


Indique la lettre de la case de mon lapin.

Le lapin se trouve dans la case :



L'assemblage de cube

Voici un assemblage de cubes. Il n'y a pas de trou caché.
Combien faut-il de cubes pour faire cet assemblage ?



Il faut cubes.

