




La tirelire

Trouve 6 façons différentes d'avoir 86€ dans la tirelire.



AIDE : Quels billets et pièces peut-on utiliser ?



Source : www.ecoleduborddumont.fr



Les portraits




A	B	C
Qui suis-je ?	Qui suis-je ?	Qui suis-je ?
Je suis un nombre compris entre 60 et 70. Mon chiffre des unités est le même que celui des dizaines.	Je suis plus grand que 80 mais plus petit que 90. Mon chiffre des unités est le double de 4.	Mon chiffre des unités est la moitié de 10. J'ai 7 dizaines.
Je suis : -----	Je suis : -----	Je suis : -----





Les animaux

Quelle est la collection la plus grande ?


Collection A	Collection B	Collection C
		
<p>Il y a ----- moutons.</p>	<p>Il y a ----- chats.</p>	<p>Il y a ----- tortues.</p>

La collection la plus grande est la .




Les sauts



1- La grenouille veut se poser sur le nénuphar. Quel numéro porte la case du nénuphar ?



...	46	48	?
-----	----	----	-----	-----	-----	-----	-----	-----	-----	-----	---	-----	-----

2- Le kangourou veut rejoindre son petit. Quel numéro porte la case où se trouve le petit kangourou ?



												
...	20	?	70

3- Aide l'écureuil à cacher sa noisette. Quel numéro va porter la case de sa cachette ?



...	...	?	81	91
-----	-----	---	-----	-----	-----	-----	-----	-----	----	----

