









CP

Semaine 3

Jour 1

Validation des réponses par le calcul.

Propositions :

1	
2	
3	
4	
5	
6	



Les portraits

A : Je suis le nombre 66.

B : Je suis le nombre 88.

C : Je suis le nombre 75.





CP



Les animaux

Collection A : Il y a 79 moutons.



Collection B : Il y a 80 chats.

Collection C : Il y a 69 tortues.



La collection la plus grande est la B.





1- La grenouille veut se poser sur le nénuphar. Quel numéro porte la case du nénuphar ?

													
...	46	48	50	52	54	56	58	60	62	64	66

2- Le kangourou veut rejoindre son petit. Quel numéro porte la case où se trouve le petit kangourou ?

												
...	20	25	30	35	40	45	50	55	70	

3- Aide l'écureuil a caché sa noisette. Quel numéro va porter la case de sa cachette ?

									
...	...	21	31	41	51	61	71	81	91

