



Quelle barquette contient le plus d'objets ?






Regarde cette image.


Quelle est la couleur du septième pingouin ?







1	2	3	4	5	6	7		9	10	11	12	13	14	15	16		19	20	21	22	23		25	26	27	28	29	30
---	---	---	---	---	---	---	--	---	----	----	----	----	----	----	----	--	----	----	----	----	----	--	----	----	----	----	----	----

Quel nombre se trouve sous le rectangle bleu  ?

Quel nombre se trouve sous le rectangle rouge  ?

Quel nombre se trouve sous le rectangle vert  ?

Quel nombre se trouve sous le rectangle violet  ?



semaine 3
jour 4

Quelle est la quantité de pingouins de chaque couleur ?

Complète les quantités pour qu'il y ait 10 pingouins dans chaque collection de couleur.

