



## Dans le magasin de jouets

Léo et Sofia ont fait des économies. Ils décident de casser leur tirelire.

Voici ce que possède Léo :



Voici ce que possède Sofia :



Léo et Sofia veulent acheter une trottinette. Avec le reste de l'argent, ils souhaitent se faire plaisir en achetant d'autres jouets. Quels jouets vont-ils pouvoir acheter en plus de la trottinette sachant qu'ils veulent utiliser l'argent dans sa totalité.





## Les billes

Théo a 34 billes dans son sac.

10 sont rouges, 13 sont bleues, les autres sont jaunes.

Combien a-t-il de billes jaunes ?

Théo a ..... billes jaunes.





## Le coffre-fort

Le coffre-fort est fermé.












Pour l'ouvrir, il faut découvrir les trois chiffres qui composent le code.


7	8	9	Aucun chiffre correct.
6	7	8	Un seul chiffre correct mais mal placé.
1	2	6	Un seul chiffre correct et bien placé.
3	1	2	Un seul chiffre correct et bien placé
8	7	4	Un seul chiffre correct mais mal placé



## Les poupées

Lou, Zoé et Clara ont chacune choisi une poupée. Ecris le numéro que porte la poupée de chacune.

La poupée de Lou <input type="text"/>	La poupée de Zoé <input type="text"/>	La poupée de Clara <input type="text"/>
Elle a un pantalon. 	Elle n'a pas de pantalon. 	Elle a un chapeau. 
Elle a un nœud. 	Elle n'a pas de nœud. 	Elle n'a pas de pantalon. 
Elle a une veste. 	Elle n'a pas de veste. 	Elle a une veste. 



Source : <http://www.marseille-6.iem.13.ac-aix-marseille.fr/spip/spip.php?article517>